



Сурагчийн нэр:

Эхэлсэн: он сар өдөр

$1\text{мм} = \frac{1}{10}\text{ см} = 0.1\text{см}$

$1\text{см} = 0.01\text{м}$


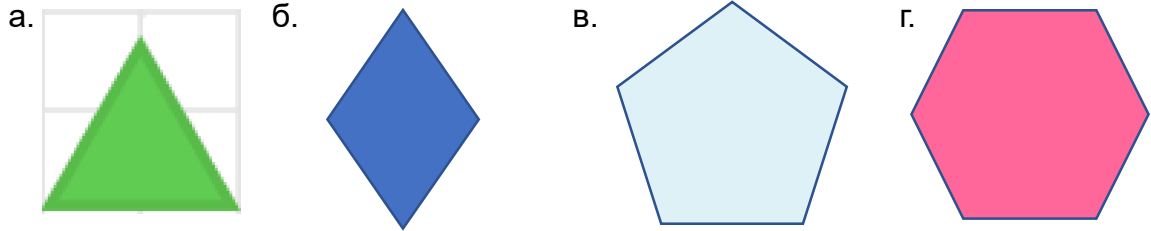
$1\text{дм} = 0.1\text{ м}$

$1\text{м} = 0.001\text{км}$

$97\text{см} = \frac{97}{100}\text{ м} = 0.97\text{ м}$

$1567\text{ м} = 1.567\text{км}$

1. Адил талт дүрсүүдийн нэг талын уртыг хэмжиж, периметрийг олоорой.



2. Хэдэн метртэй тэнцэх вэ?

- а. $18.324\text{ км} = (18.324 \times 1000)\text{ м} = 18324\text{ м}$
- б. $54.425\text{ км} =$
- в. $136.42\text{ км} =$
- г. $209.59\text{ км} =$

3. Хэдэн километртэй тэнцэх вэ?

- а. $4825\text{ м} = (4825 \div 1000)\text{ км} = 4.825\text{ км}$
- б. $17650\text{ м} =$
- в. $2563\text{ м} =$
- г. $115034\text{ м} =$

4. Жишээрэй.

а. $482.5\text{ м} \square 48.25\text{ м}$

б. $17.5\text{ км} \square 17.005\text{ км}$

5. а. $52.5\text{ см} \square 5.26\text{ м}$

в. $325.5\text{ м} \square 6.5\text{ км}$

\downarrow
 526 см

б. $2.375\text{ км} \square 2738\text{ м}$

г. $0.437\text{ км} \square 782.5\text{ м}$

Дууссан:сарөдөр



Даалгавар	1	2	3	4	5
Өөрийн үнэлгээ					




Сурагчийн нэр:

Эхэлсэн: он сар өдөр

Өгөгдсөн дүрсүүдээр нийлмэл дүрс бүтээе.


$P = 2\text{ см} + 3\text{ см} + 2\text{ см} + 1\text{ см} + 1\text{ см} + 2\text{ см} = 11\text{ см}$

1. Үүссэн дүрсийн периметрийг олоорой.

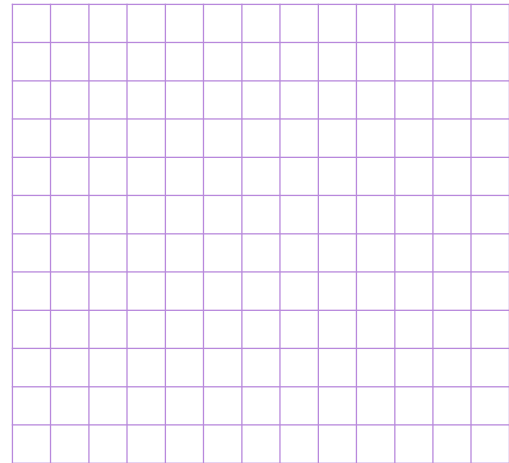


2. Дээрх дөрвөн дүрсүүдээс бүтсэн нийлмэл дүрс зурж, хүрээний уртыг олоорой.

а.

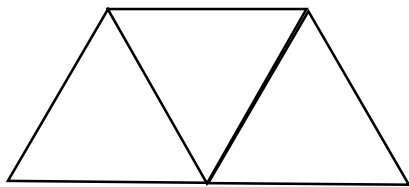


б.


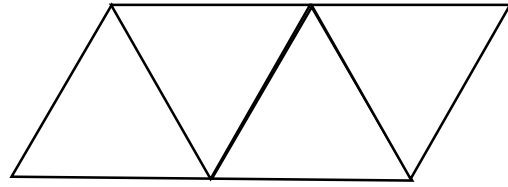


3. Адил талт гурвалжны талын урт 5 см бол үүссэн дүрсийн периметрийг олоорой.

а.



б.



Дууссан:сарөдөр



Даалгавар	1	2	3
Өөрийн үнэлгээ	😊	😊	😊



Сурагчийн нэр:

Эхэлсэн: он сар өдөр

1мм = 0.1см

1дм = 0.1 м

1см = 0.01м

1м = 0.001км

1. Хэдэн метртэй тэнцэх вэ?

а. $64 \text{ м } 32 \text{ см} = 64 \text{ м} + \frac{32}{100} \text{ м} = 64\text{м} + 0.32\text{м} = 64.32\text{м}$

б. $52\text{м } 24\text{см} =$

в. $58\text{м } 40\text{см} =$

г. $87\text{м } 50\text{см} =$

2. Хэдэн километртэй тэнцэх вэ?

а. $5\text{км } 345\text{м} = 5\text{км} + \frac{345}{1000} \text{ км} = 5\text{км} + 0.345\text{км} = 5.345\text{км}$

б. $8\text{км } 462\text{м} =$

в. $29\text{км } 58\text{м} =$

г. $130\text{км } 75\text{м} =$


3. Дүрс тус бүрийн периметр өгөгджээ. Мэдэгдэхгүй байгаа талыг олоорой.

а.

б.

в.

4. Дээрх гурван дүрсүүдээс бүтсэн нийлмэл дүрс зурж, хүрээний уртыг олоорой.



Дууссан:сарөдөр

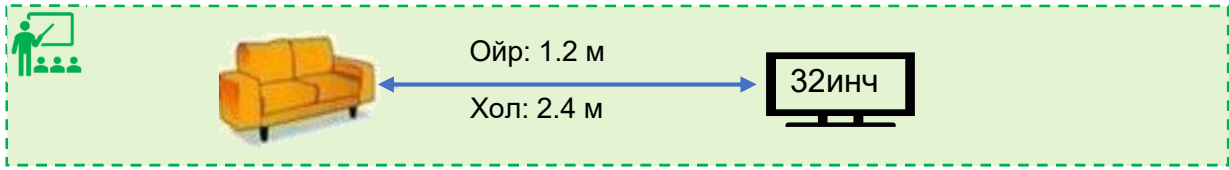


Даалгавар	1	2	3	4
Өөрийн үнэлгээ				



Сурагчийн нэр:

Эхэлсэн: он сар өдөр




1. Хүснэгтэд тохирох хэмжээг бичээд, зурагт үзэх тохиромжтой хэмжээгээ сонгоорой.


Дэлгэцийн хэмжээ	32 инч	40 инч	42 инч	50 инч	60 инч
Ойрын зай	1.2 м	1.5 м	1.6 м	1.9 м	2.3 см	
Холын зай	2.4 м					

2. 12 см.кв талбайтай тэгш өнцөгтүүдийг зурж, хүснэгтэд тохирох хэмжээг бичээрэй. Хамгийн их болон хамгийн бага периметрийн зөрөөг олоорой.

Талбай	12 см.кв	12 см.кв	12 см.кв	12 см.кв	12 см.кв
Урт	12 см	8 см	6 см	5 см	4 см
Өргөн					
Периметр					



3. Квадратын периметр 60 см, талын уртыг 3 см-ээр ихэсгэвэл түүний периметр хэдэн сантиметрээр нэмэгдэх вэ?



Дууссан:сарөдөр



Даалгавар	1	2	3
Өөрийн үнэлгээ	😊	😊	😊